


Opdrachten met korte uitleg




Zie de opdrachten op de bladzijde hiernaast.

Opdracht 1 is in het schema helemaal voorgedaan.

Opdracht 2 en 3 ga je zelf afmaken met het schema.

				Opdracht 1	Opdracht 2	Opdracht 3
STAP 1	Boek		Lezen			
STAP 2	Kladblok		Wat?	Hoeveel limonade zit er nog in mijn halfvolle glas?	Hoeveel mensen kunnen er nog bij?	Hoeveel bakstenen moeten er nog gemetseld worden?
STAP 3	Kladblok		Wat weet ik?	vol glas: $\frac{1}{5}$ deel	Totaal 320 mensen. $\frac{7}{8}$ gevuld.	
STAP 4	Kladblok		Hoe?	De helft van $\frac{1}{5}$	$\frac{1}{8}$ is?	
STAP 5	Kladblok		Kladblaadje	$\frac{1}{5} = \frac{2}{10}$		
STAP 6	Kladblok		Uitkomst	De helft van $\frac{2}{10}$ is $\frac{1}{10}$		
STAP 7	Schrift		Schrijven	A $\frac{1}{2}$ liter B $\frac{1}{10}$ liter C $\frac{1}{5}$ liter D $\frac{4}{5}$ liter	A 360 mensen B 60 mensen C 40 mensen D 280 mensen	A 350 bakstenen B 60 bakstenen C 70 bakstenen D 80 bakstenen
STAP 8	Schrift		Controleren	Bijvoorbeeld: Dat klopt, want voordat ik begon te drinken had ik al $\frac{1}{5}$ in mijn glas en de andere antwoorden passen niet eens in mijn glas!		

Opdrachten



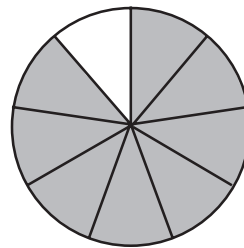
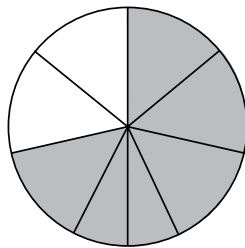
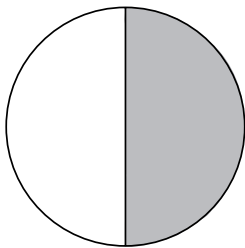
1. Vera en Ise mogen samen snoepjes verdelen.
 Vera zegt: Ik wil graag $\frac{2}{4}$ deel van alle snoepjes.
 Ise zegt: Ik wil $\frac{3}{7}$ deel van de snoepjes.
 Wie zou de meeste snoepjes krijgen?



- A Vera
- B Ise
- C Ze krijgen allebei evenveel.

s	
d	
z	op plek ?

2. Pizza 1 is van Job. Pizza 2 is van Mink Pizza 3 is van Sem

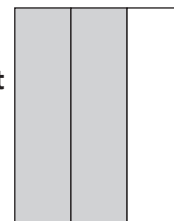


Ze hebben alle drie al een gedeelte van hun pizza opgegeten.
 Het witte gedeelte van iedere pizza is nog over.
 Van welke pizza is er nog het meeste over en welk deel van die pizza is dat?

- A Van pizza 1: $\frac{1}{2}$ deel
- B Van pizza 1: $\frac{2}{4}$ deel
- C Van pizza 2: $\frac{2}{7}$ deel
- D Van pizza 3: $\frac{1}{9}$ deel

o	
a	
w	
q	op plek 4

3. Opa is een muur in de kamer aan het behangen. Er komt mooi rood behang op de muur. Na een uurtje heeft hij al een heel groot stuk behangen.
 Welk stuk moet er daarna nog behangen worden?




Legenda:

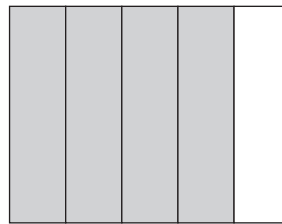
	behangen
	niet behangen

- A 25%
- B 33%
- C 20%
- D 30%

f	
n	
d	
s	op plek 5



4. We krijgen op school een mooi grasveld.
Hoveniers komen graszoden leggen.
Na een half uurtje werken hebben ze al heel veel
gras gelegd. Welk deel van het gras ligt er dan al?
(zie de afbeelding)



Legenda:

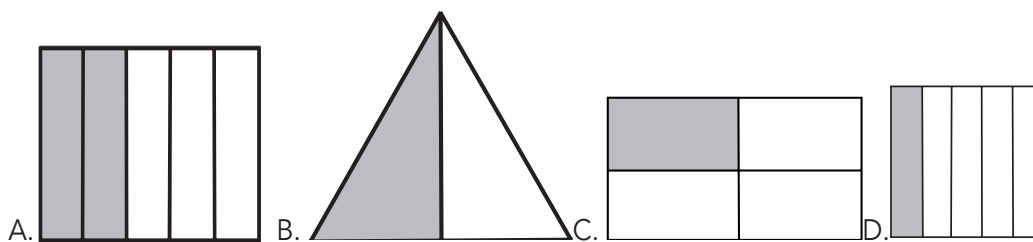
	gelegd
	niet gelegd

- A 20%
- B 60%
- C 80%
- D 75%

f	
c	
a	
u	op plek 2



5. Moeder is op zoek naar een mooi abstract schilderij. Ze ziet een heel mooi schilderij waarvan 25% mooi ingekleurd is. Welk schilderij is dat?



- A Schilderij A
- B Schilderij B
- C Schilderij C
- D Schilderij D

f	
j	
l	
m	op plek ?

